



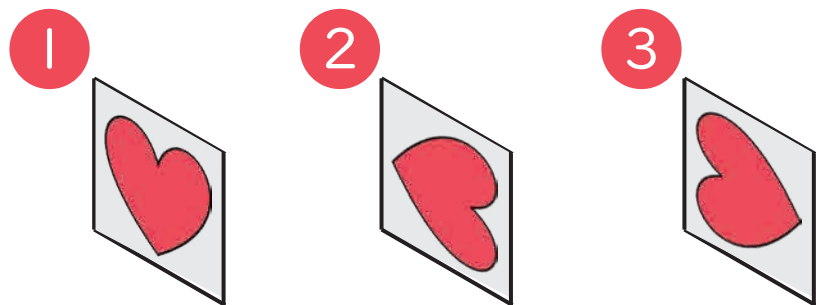
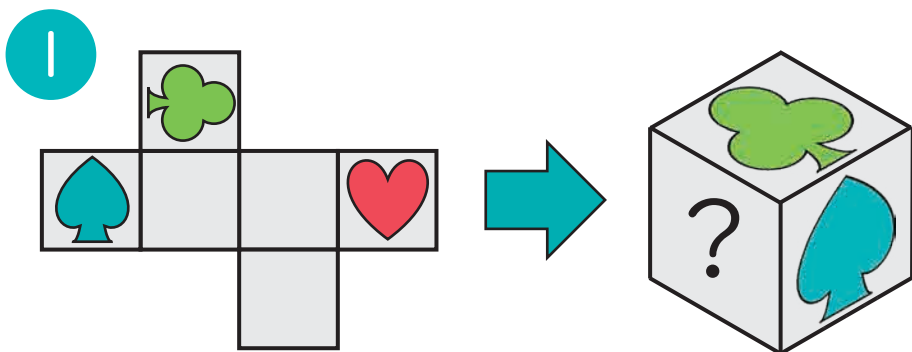
☆☆  
ふつう

# 8 | もようのむきは？

なまえ  
名前

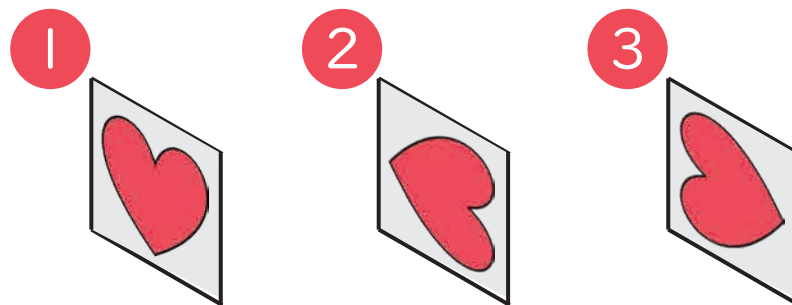
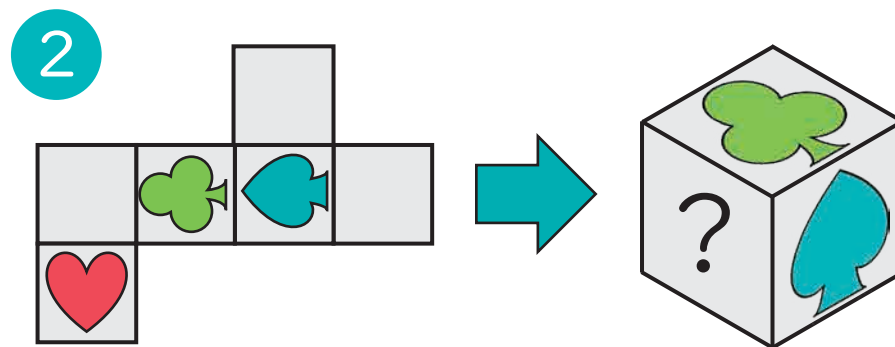
● 左の てんかい図<sup>ひだり</sup>を組み立てて、右の さいころ<sup>みぎ</sup>を作ります。

このとき、<sup>はい</sup>に入る もようの 向き<sup>む</sup>で、正しいのは ① から ③ の どれですか。<sup>ただ</sup>



こた  
答え

1



こた  
答え

3

思考力・脳トレ小学生学習プリント

RISU



RISU × 幼児・小学生・中学生向けの無料学習プリントサイト  
学習プリント.com

コラボ教材

思考力・脳トレ 小学生学習プリント

ただ今、RISUは1週間お試しキャンペーン中!

詳しくは右のQRコードからご覧ください。  
お試しにはクーポンコード「gsp07a」を入力下さい。

