



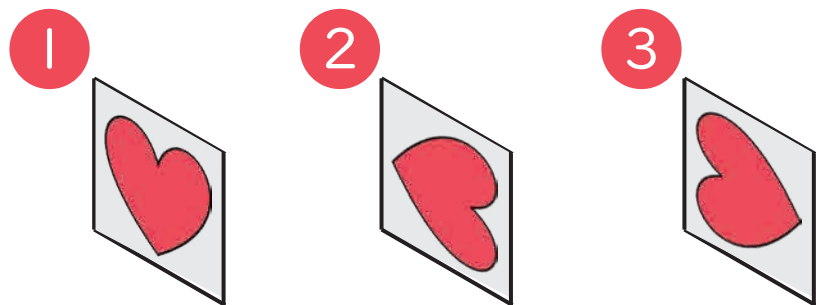
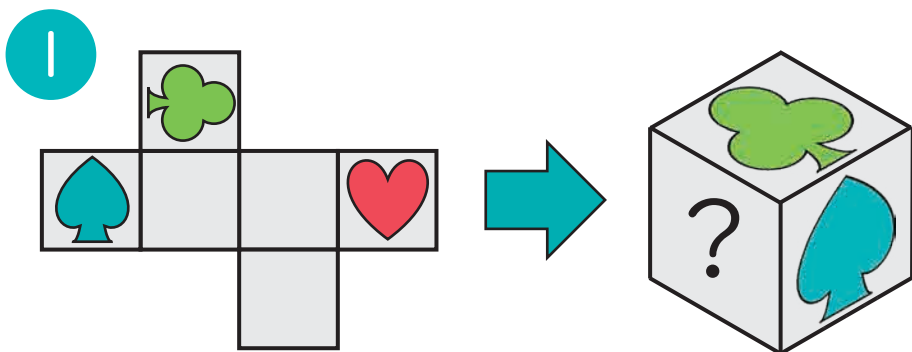
☆☆
ふつう

8 | もようのむきは？

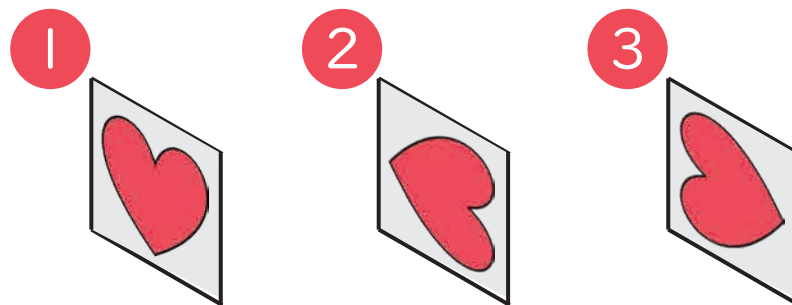
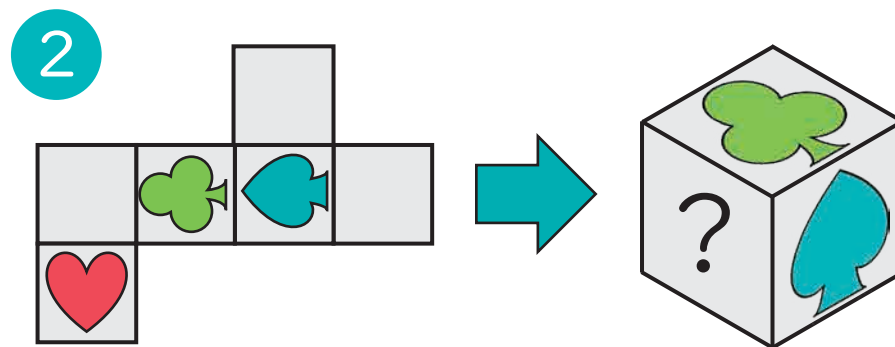
なまえ
名前

● 左の てんかい図^{ひだり}を組み立てて、右の さいころ^{みぎ}を作ります。

このとき、 ^{はい}に入る もようの 向き^むで、正しいのは **①** から **③** の どれですか。^{ただ}



こた
答え



こた
答え

思考力・脳トレ小学生学習プリント

RISU



RISU × 幼児・小学生・中学生向けの無料学習プリントサイト
学習 **プリ**フト.com

コラボ教材

思考力・脳トレ 小学生学習プリント

ただ今、RISUは1週間お試しキャンペーン中!

詳しくは右のQRコードからご覧ください。
お試しにはクーポンコード「gsp07a」を入力下さい。

