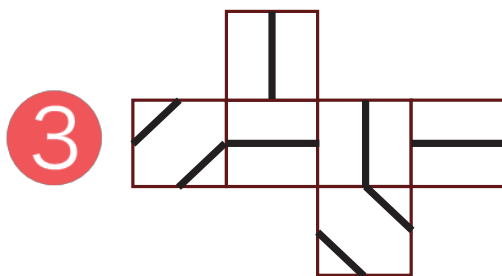
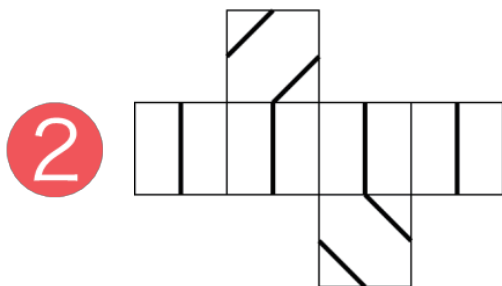
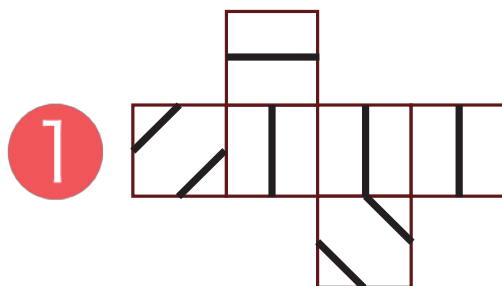
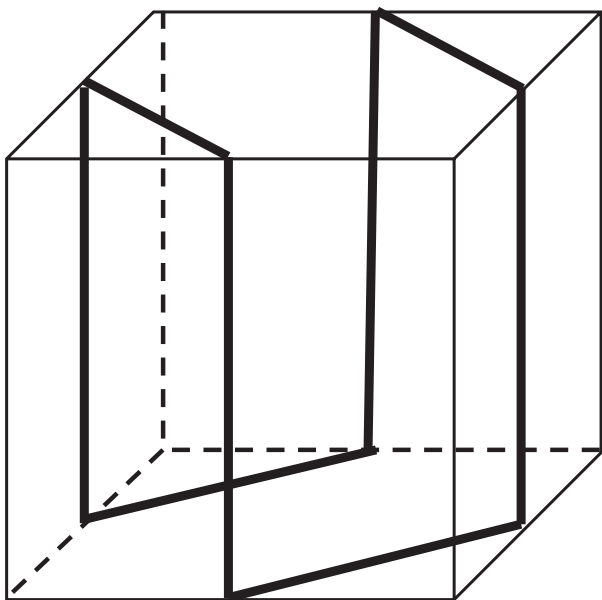




● 立方体^{りっぽうたい}の表面^{ひょうめん}に線^{せん}を引きました^ひ。

でんかい図^{でんかいず}に書きこまれている線^{せん}として正しいもの^{ただ}はどれでしょうか。



ヒント!

りっぽうたい^{りっぽうたい}のどこの線^{せん}とどこの線^{せん}がつながっているかな?



こた
答え

思考力・脳トレ小学生学習プリント

RISU

