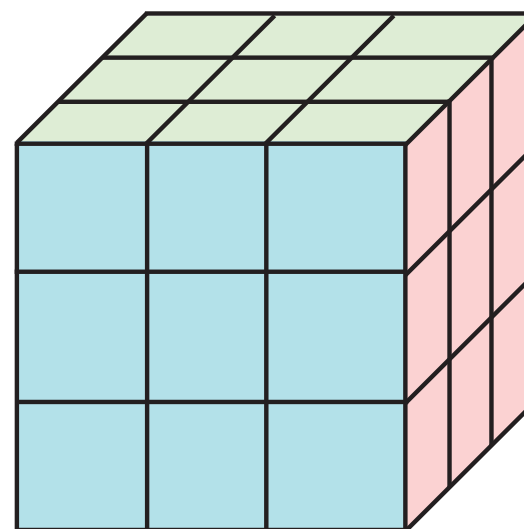

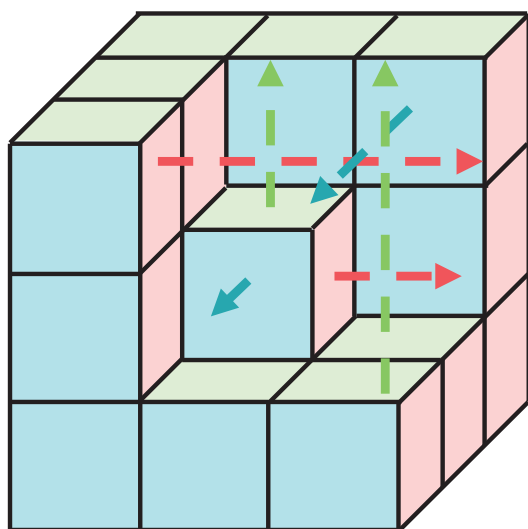




25 | 立体の表面積は？

なまえ
名前

- 下の図のように1辺が1cmの立方体をつんで、立体を作りました。
この立体の表面積は何 cm^2 ですか。



かいせつ

同じ向きの面どうしに同じ色をつけていくと、左の図のようになるよ。

色をつけた面を外側の面の位置にあわせると、右の図のようになり、

立方体と同じ表面積になると考えられるね。だから、

この立体の表面積は、 $9 \times 6 = 54 (\text{cm}^2)$ になるよ。

こた
答え

54

cm^2

思考力・脳トレ小学生学習プリント

RISU



RISU × 幼児・小学生・中学生向けの無料学習プリントサイト
学習プリント.com

コラボ教材

思考力・脳トレ 小学生学習プリント

ただ今、RISUは1週間お試しキャンペーン中！

詳しくは右のQRコードからご覧ください。
お試しにはクーポンコード「gsp07a」を入力下さい。

