

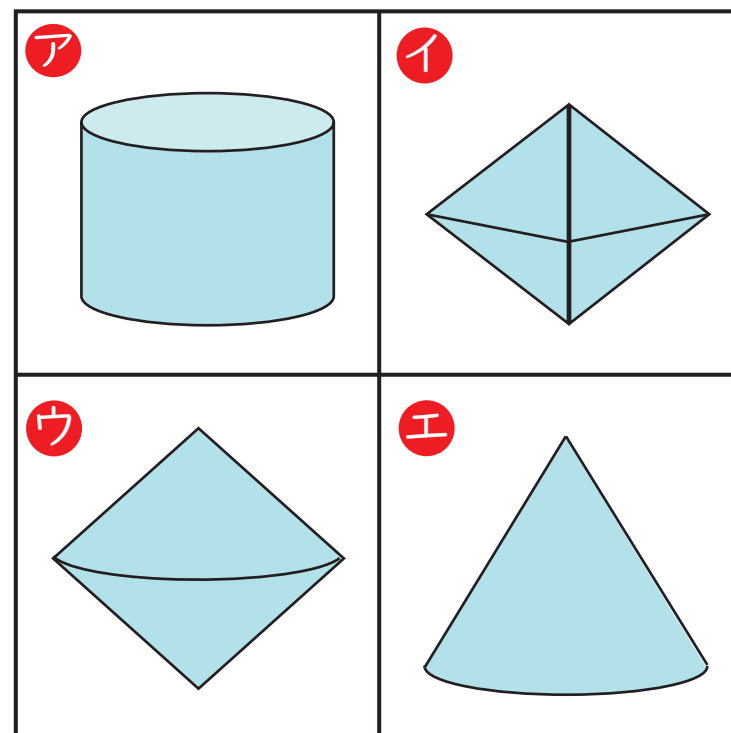
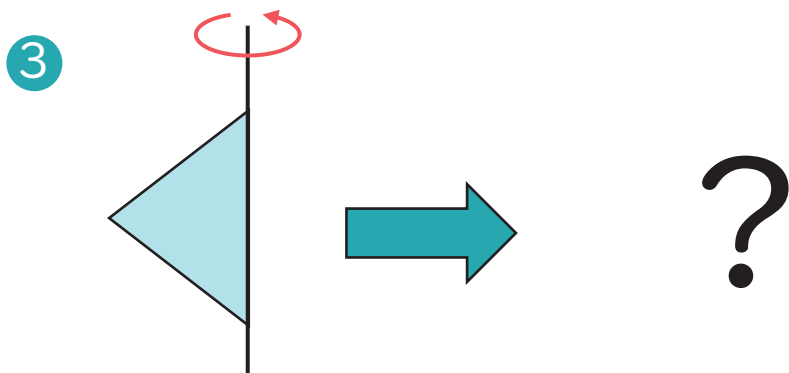
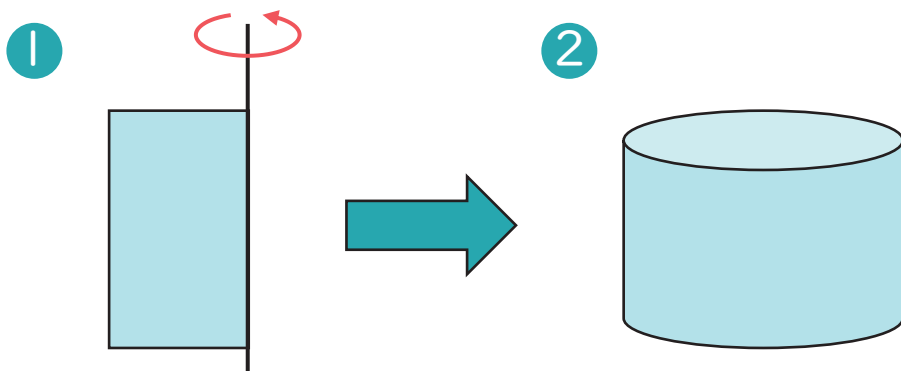


★  
かんたん

## 28 | まわしてできたかたち

なまえ  
名前

- したの①のかたちを、あかいやじるしのようにせんをちゅうしんにまわすと、②のりったいができます。
- ③のかたちを、せんをちゅうしんにまわしてできるりったいはどれでしょうか。



こたえ

思考力・脳トレ小学生学習プリント

RISU



RISU × 幼児・小学生・中学生向けの無料学習プリントサイト  
学習プリント.com

コラボ教材

思考力・脳トレ 小学生学習プリント

ただ今、RISUは1週間お試しキャンペーン中！

詳しくは右のQRコードからご覧ください。  
お試しにはクーポンコード「gsp07a」を入力下さい。

