



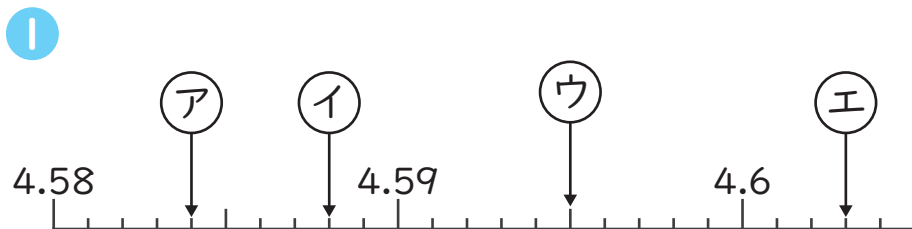
小数のしくみ

しょうすうだいさんい

数直線で表す小数(小数第三位) 2 (8)

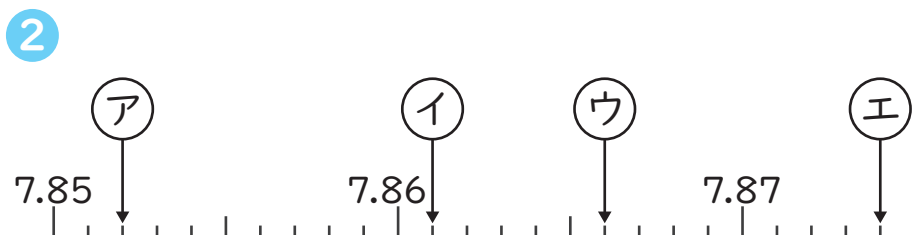
年 組 名前

1 次の数直線で、(ア)～(エ)の目もりが表す数を書きましょう。



(ア) (4.584) (イ) (4.588)

(ウ) (4.595) (エ) (4.603)

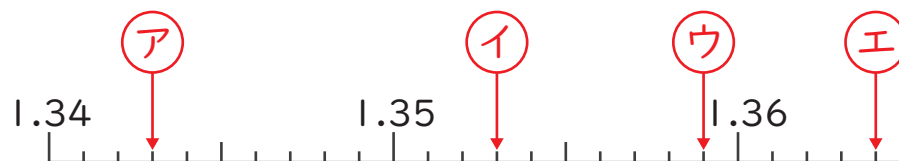


(ア) (7.852) (イ) (7.861)

(ウ) (7.866) (エ) (7.874)

2 次の(ア)～(エ)を数直線に↓で表しましょう。

1 (ア) 1.343 (イ) 1.353
(ウ) 1.359 (エ) 1.364



2 (ア) 9.895 (イ) 9.901
(ウ) 9.906 (エ) 9.912

