



# 小数のしくみ

しょうすうだいさんい

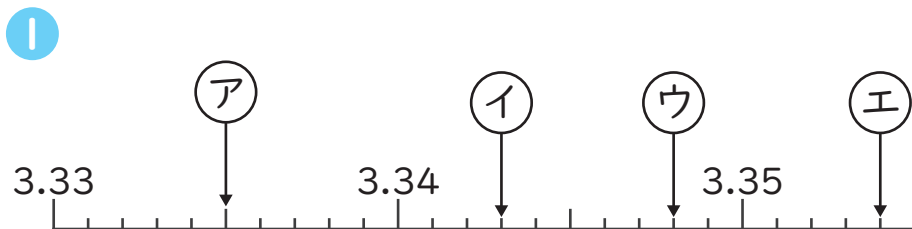
## 数直線で表す小数 (小数第三位) 2 (3)

年

組

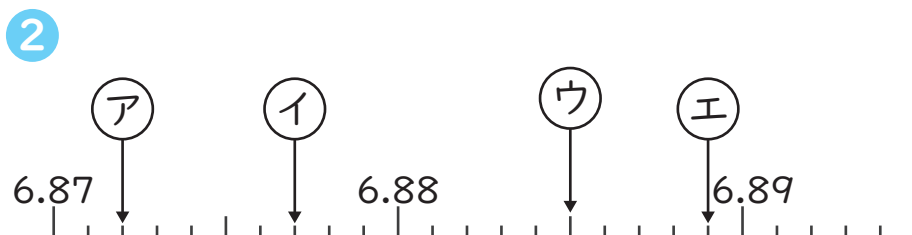
名前

1 次の数直線で、(ア)～(エ)の目もりが表す数を書きましょう。



(ア) ( 3.335 ) (イ) ( 3.343 )

(ウ) ( 3.348 ) (エ) ( 3.354 )

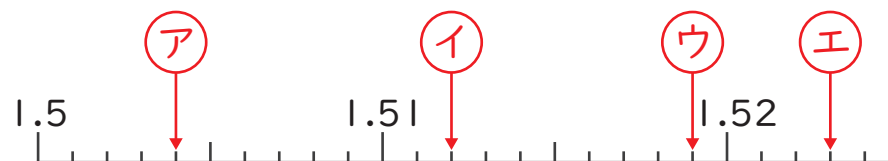


(ア) ( 6.872 ) (イ) ( 6.877 )

(ウ) ( 6.885 ) (エ) ( 6.889 )

2 次の(ア)～(エ)を数直線に↓で表しましょう。

1 (ア) 1.504 (イ) 1.512  
(ウ) 1.519 (エ) 1.523



2 (ア) 7.016 (イ) 7.021  
(ウ) 7.028 (エ) 7.032

