

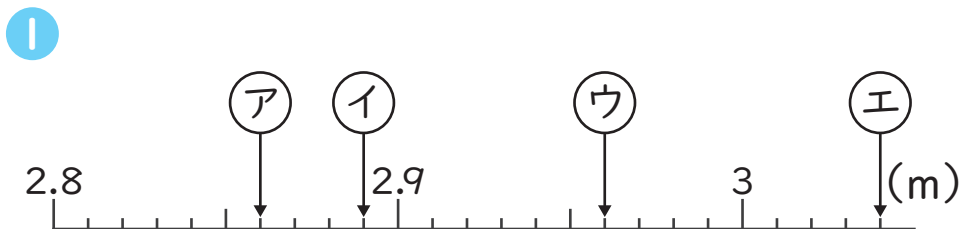


小数のしくみ

しょうすうだいにい
数直線で表す小数(小数第二位) 1 (4)

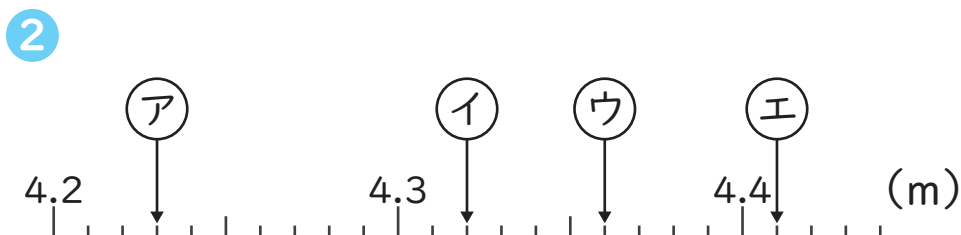
年 組 名前

1 次の数直線で、(ア)～(エ)の目もりが表す長さをm単位で表しましょう。



(ア) (2.86m) (イ) (2.89m)

(ウ) (2.96m) (エ) (3.04m)

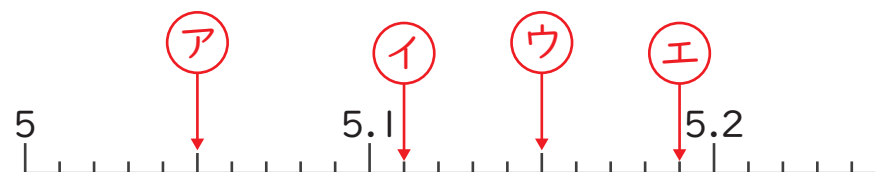


(ア) (4.23m) (イ) (4.32m)

(ウ) (4.36m) (エ) (4.41m)

2 次の(ア)～(エ)を数直線に↓で表しましょう。

1 (ア) 5.05 (イ) 5.11
(ウ) 5.15 (エ) 5.19



2 (ア) 8.42 (イ) 8.47
(ウ) 8.51 (エ) 8.58

