



# 小数のしくみ

しょうすうだいにい

## 数直線で表す小数(小数第二位) I (3)

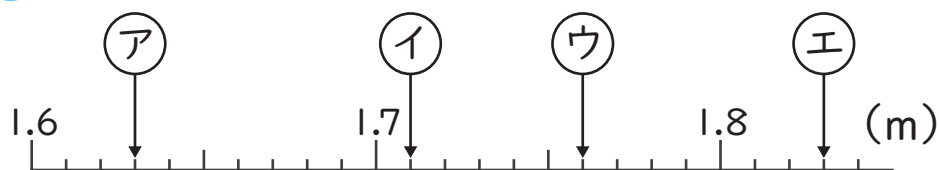
年

組

名前

1 次の数直線で、(ア)～(エ)の目もりが表す長さをm単位で表しましょう。

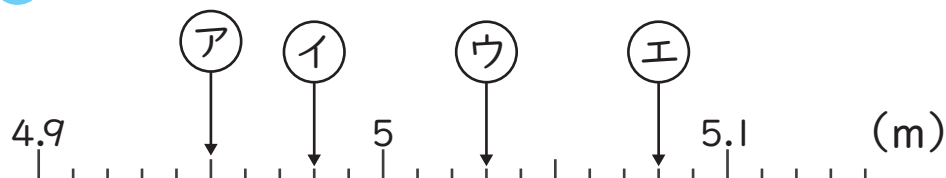
1



(ア) ( 1.63m ) (イ) ( 1.71m )

(ウ) ( 1.76m ) (エ) ( 1.83m )

2



(ア) ( 4.95m ) (イ) ( 4.98m )

(ウ) ( 5.03m ) (エ) ( 5.08m )

2 次の(ア)～(エ)を数直線に↓で表しましょう。

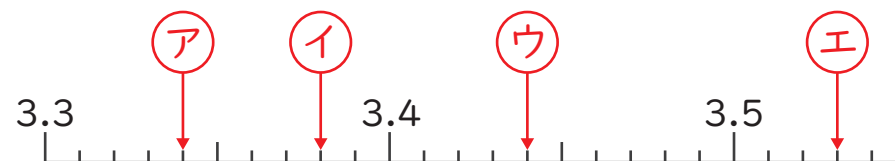
1

(ア) 3.34

(イ) 3.38

(ウ) 3.44

(エ) 3.53



2

(ア) 7.82

(イ) 7.87

(ウ) 7.96

(エ) 8.01

