



# 角の大きさ

## 角度のはかり方 (8)

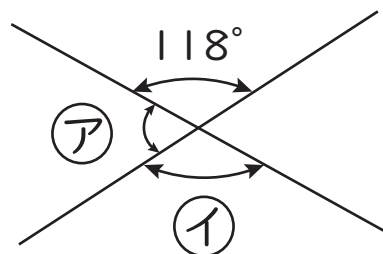
年

組

名前

次の 1 から 4 の ① ② の角度はそれぞれ何度ですか。計算で求めましょう。

1



②

式  $180 - 118 = 62$

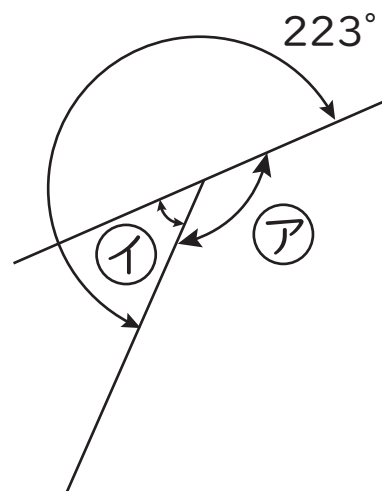
答え  $62^\circ$

①

式  $180 - 62 = 118$

答え  $118^\circ$

2



②

式  $360 - 223 = 137$

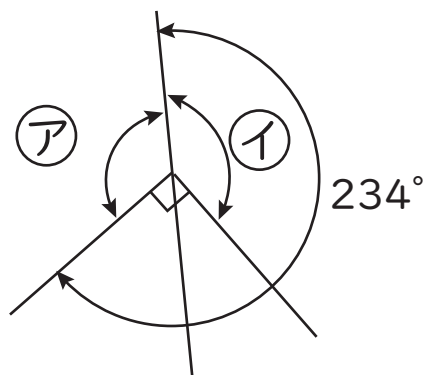
答え  $137^\circ$

①

式  $180 - 137 = 43$

答え  $43^\circ$

3



②

式  $360 - 234 = 126$

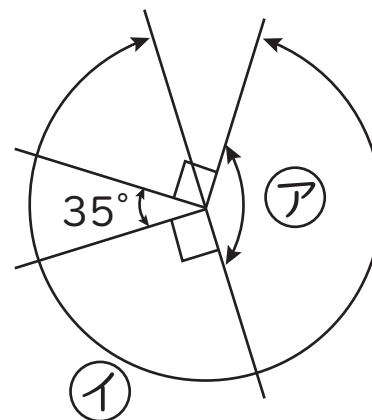
答え  $126^\circ$

①

式  $234 - 90 = 144$

答え  $144^\circ$

4



②

式  $360 - (35 + 90 + 90) = 145$

答え  $145^\circ$

①

式  $180 + 145 = 325$   
式  $(360 - (180 - 145)) = 325$

答え  $325^\circ$