



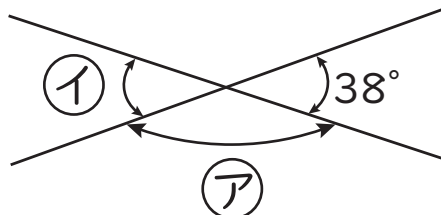
角の大きさ

角度のはかり方 (7)

年 組 名前

次の 1 から 4 の ① ② の角度はそれぞれ何度ですか。計算で求めましょう。

1



②

式

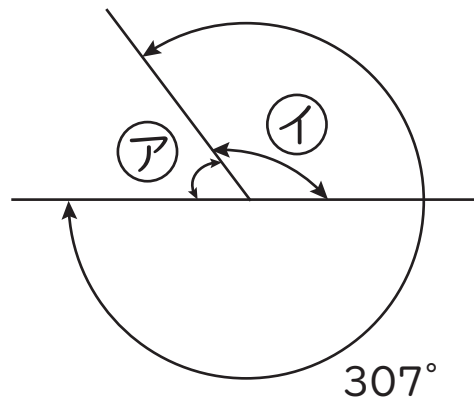
答え

①

式

答え

2



②

式

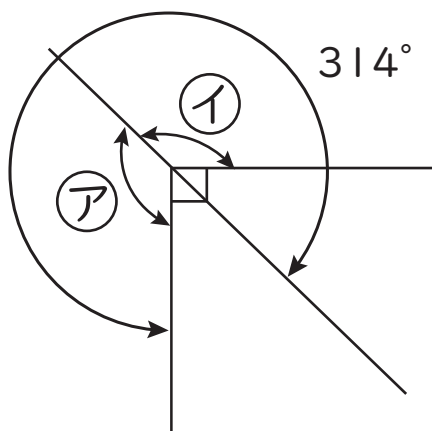
答え

①

式

答え

3



②

式

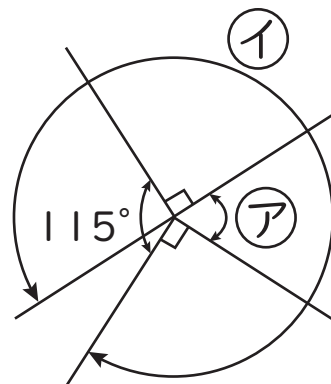
答え

①

式

答え

4



②

式

答え

①

式

答え