



# 角の大きさ

## 角度のはかり方 (6)

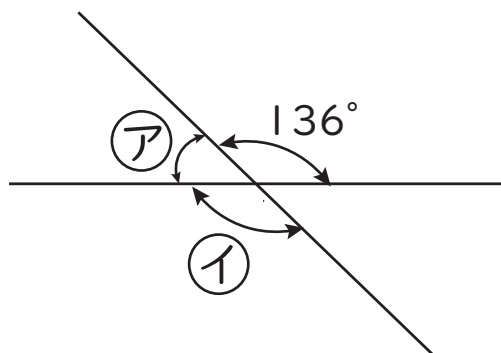
年

組

名前

次の 1 から 4 の ① ② の角度はそれぞれ何度ですか。計算で求めましょう。

1



①

式

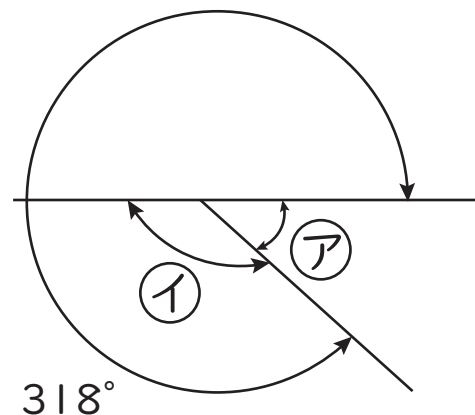
答え

②

式

答え

2



①

式

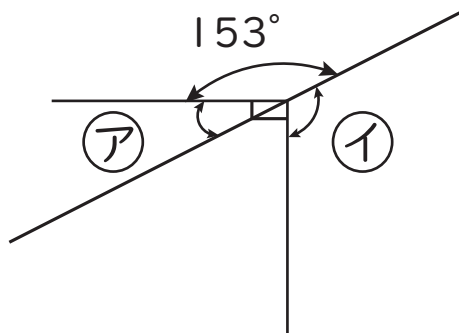
答え

②

式

答え

3



①

式

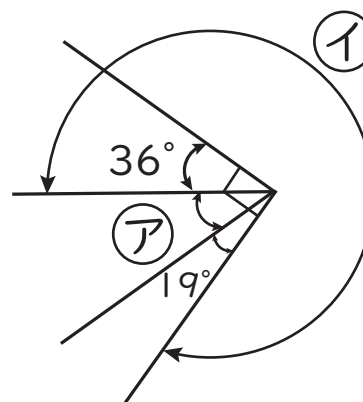
答え

②

式

答え

4



①

式

答え

②

式

答え