



# 角の大きさ

## 角度のはかり方 (3)

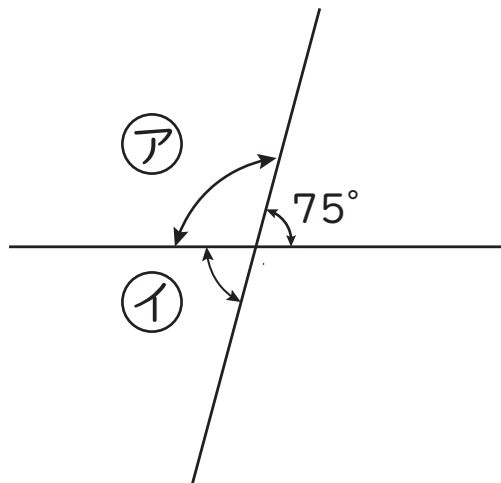
年

組

名前

次の 1 から 4 の ① ② の角度はそれぞれ何度ですか。計算で求めましょう。

1



②

$$\text{式 } 180 - 75 = 105$$

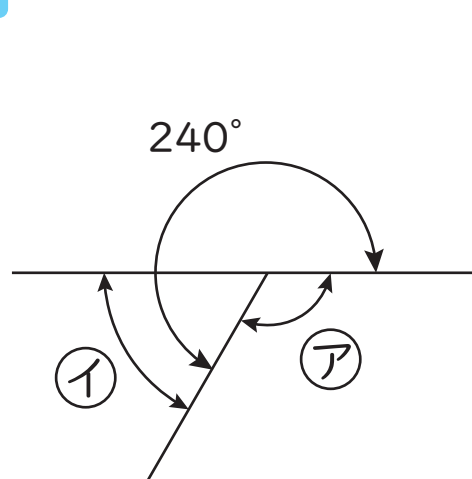
$$\text{答え } 105^\circ$$

①

$$\text{式 } 180 - 105 = 75$$

$$\text{答え } 75^\circ$$

2



②

$$\text{式 } 360 - 240 = 120$$

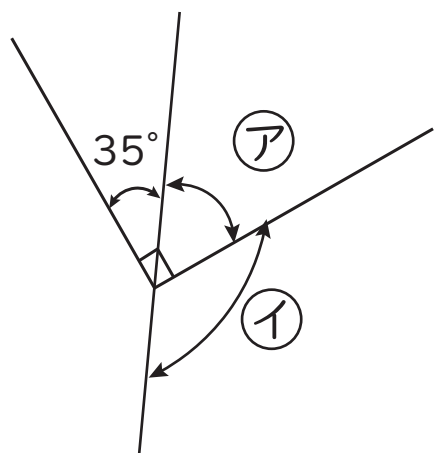
$$\text{答え } 120^\circ$$

①

$$\text{式 } 180 - 120 = 60$$

$$\text{答え } 60^\circ$$

3



②

$$\text{式 } 90 - 35 = 55$$

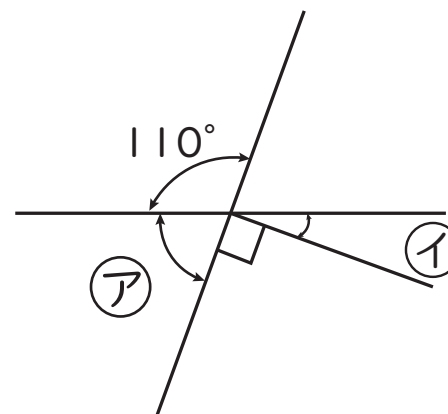
$$\text{答え } 55^\circ$$

①

$$\text{式 } 180 - 55 = 125$$

$$\text{答え } 125^\circ$$

4



②

$$\text{式 } 180 - 110 = 70$$

$$\text{答え } 70^\circ$$

①

$$\text{式 } 180 - (70 + 90) = 20$$

$$\text{答え } 20^\circ$$