



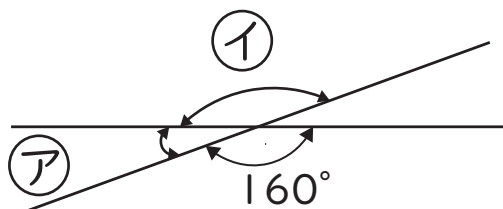
# 角の大きさ

## 角度のはかり方 (2)

年 組 名前

次の 1 から 4 の ① ② の角度はそれぞれ何度ですか。計算で求めましょう。

1



①

式  $180 - 160 = 20$

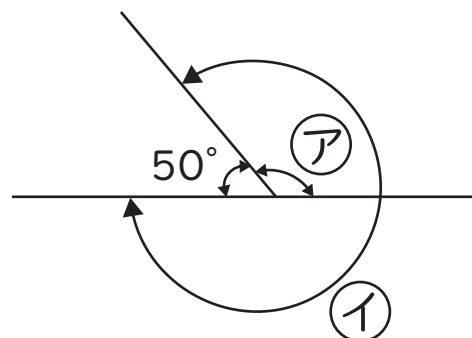
答え  $20^\circ$

②

式  $180 - 20 = 160$

答え  $160^\circ$

2



①

式  $180 - 50 = 130$

答え  $130^\circ$

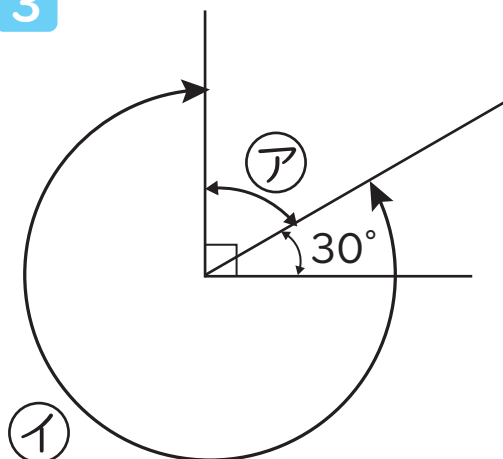
②

式  $360 - 50 = 310$

式  $(180 + 130 = 310)$

答え  $310^\circ$

3



①

式  $90 - 30 = 60$

答え  $60^\circ$

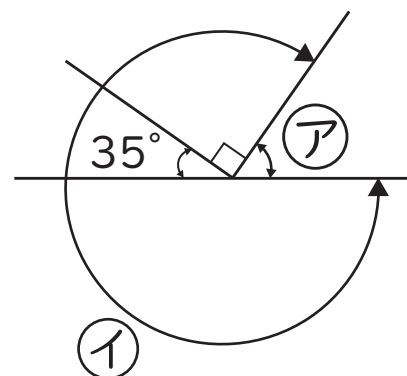
②

式  $360 - 60 = 300$

式  $(180 + 90 + 30 = 300)$

答え  $300^\circ$

4



①

式  $180 - (35 + 90) = 55$

答え  $55^\circ$

②

式  $360 - 55 = 305$

式  $(180 + 35 + 90 = 305)$

答え  $305^\circ$