



角の大きさ

角度のはかり方 (1)

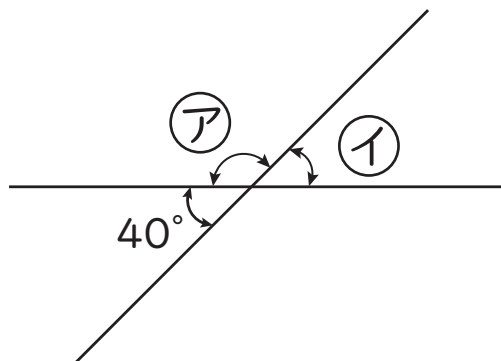
年

組

名前

次の 1 から 4 の ア イ の角度はそれぞれ何度ですか。計算で求めましょう。

1



ア

式 $180 - 40 = 140$

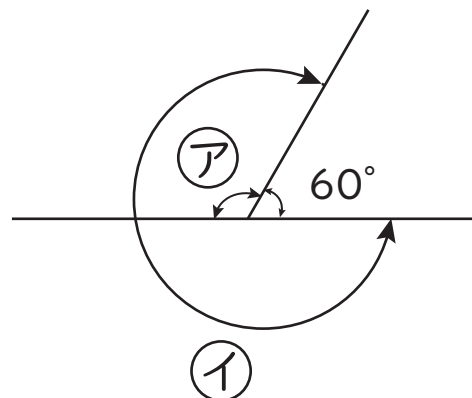
答え 140°

イ

式 $180 - 140 = 40$

答え 40°

2



ア

式 $180 - 60 = 120$

答え 120°

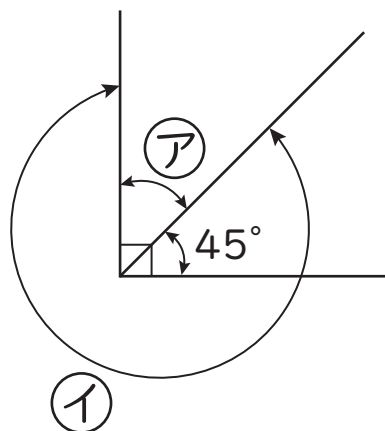
イ

式 $360 - 60 = 300$

式 $(180 + 120 = 300)$

答え 300°

3



ア

式 $90 - 45 = 45$

答え 45°

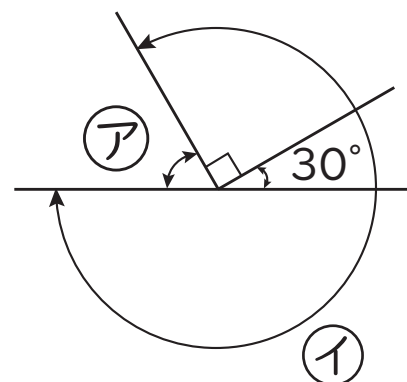
イ

式 $360 - 45 = 315$

式 $(180 + 90 + 45 = 315)$

答え 315°

4



ア

式 $180 - (90 + 30) = 60$

答え 60°

イ

式 $360 - 60 = 300$

式 $(180 + 90 + 30 = 300)$

答え 300°