



のこりはいくつ

しきとこたえをかきましょう(4)

ねん

くみ

なまえ

ペンギンはなんわのこりましたか。しきをかいてこたえましょう。


はじめに4わ。



2わいなくなると

しき  $4 - 2 = 2$  こたえ  $2$  わ

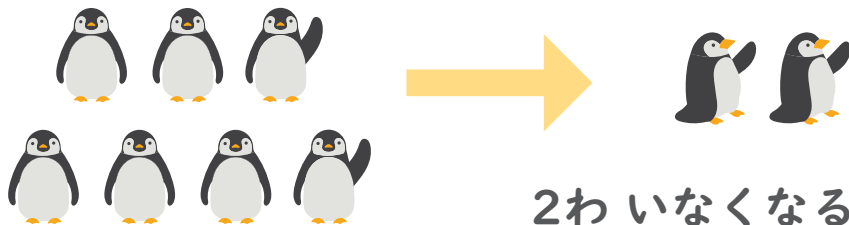
はじめに5わ。



4わいなくなると

しき  $5 - 4 = 1$  こたえ  $1$  わ


はじめに7わ。



2わいなくなると

しき  $7 - 2 = 5$  こたえ  $5$  わ

はじめに10わ。



4わいなくなると

しき  $10 - 4 = 6$  こたえ  $6$  わ