



のこりはいくつ


しきとこたえをかきましょう(1)

ねん

くみ なまえ

かえるはなんびきのこりしましたか。しきを かいて こたえましょう。


はじめに 3びき。



2ひき とんでいくと

しき $3 - 2 = 1$ こたえ 1 びき

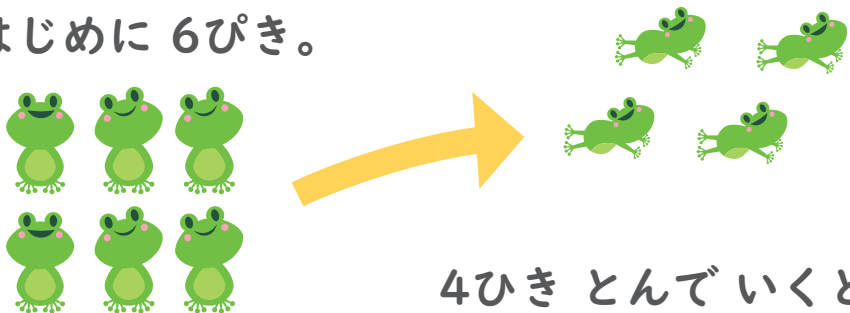
はじめに 7ひき。



3びき とんでいくと

しき $\square - \square = \square$ こたえ \square ひき

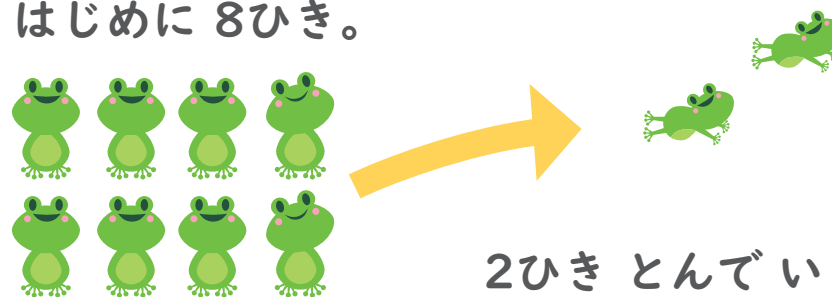
はじめに 6びき。



4ひき とんでいくと

しき $\square - \square = \square$ こたえ \square ひき

はじめに 8ひき。



2ひき とんでいくと

しき $\square - \square = \square$ こたえ \square びき