



なんじなんぷん

ただしいとけいを こたえましょう 2 (1)

ねん

くみ なまえ

1 8じ32ふんの とけいは どれですか。

あ



い



う



こたえ

2 10じ19ふんの とけいは どれですか。

あ



い



う



こたえ



なんじなんぷん

ただしいとけいを こたえましょう 2 (2)

ねん

くみ

なまえ

1 4じ26ぷんの とけいは どれですか。

あ



い



う



こたえ

2 12じ41ぷんの とけいは どれですか。

あ



い



う



こたえ



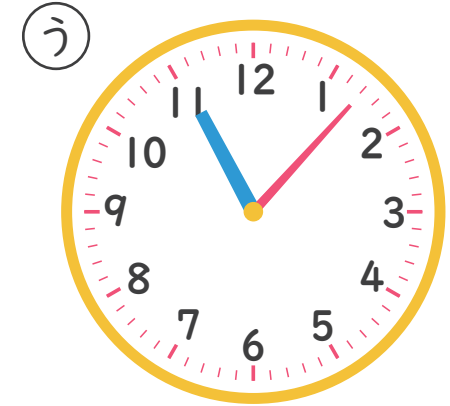

なんじなんぷん

ただしいとけいを こたえましょう 2 (3)

ねん

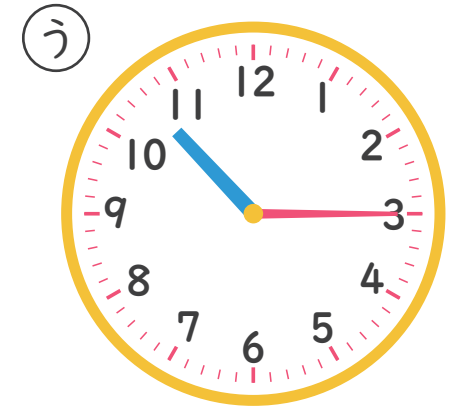
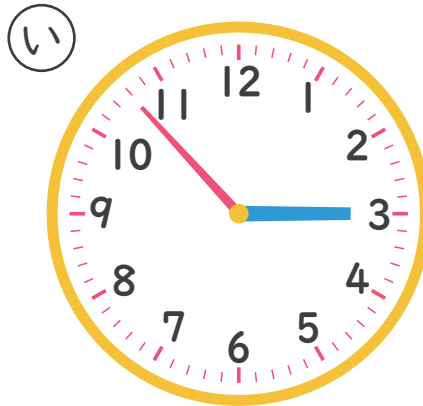
くみ なまえ

1 11じ7ふんの とけいは どれですか。



こたえ

2 3じ53ふんの とけいは どれですか。



こたえ

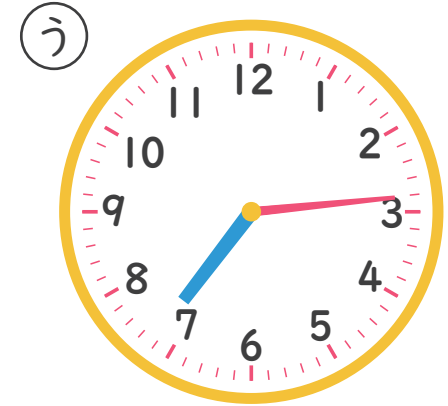
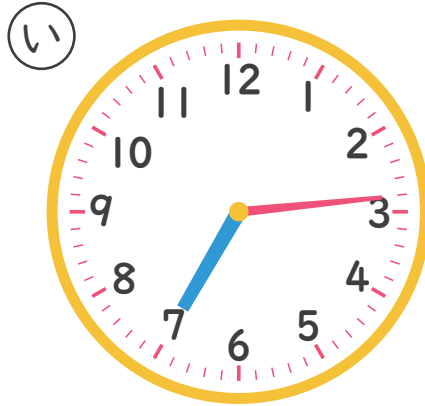


なんじなんぷん

ただしいとけいを こたえましょう 2 (4)

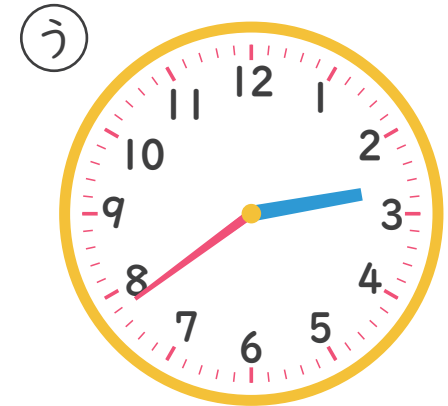
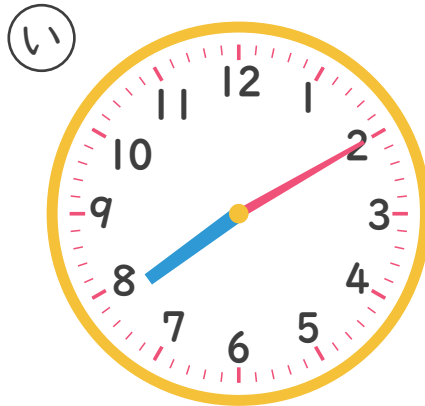
ねん くみ なまえ

1 7じ14ふんの とけいは どれですか。



こたえ

2 2じ39ふんの とけいは どれですか。



こたえ



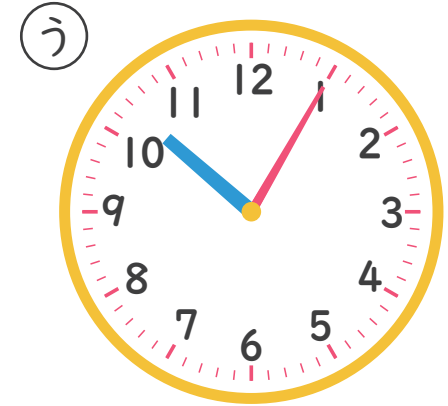

なんじなんぷん

ただしいとけいをこたえましょう2(5)

ねん

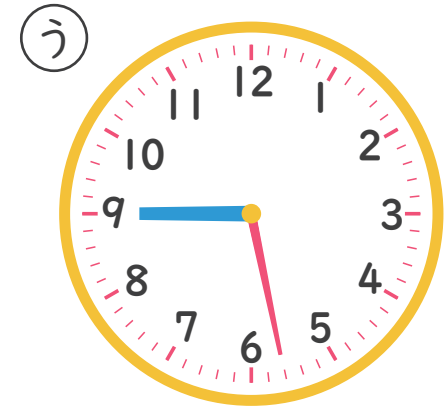
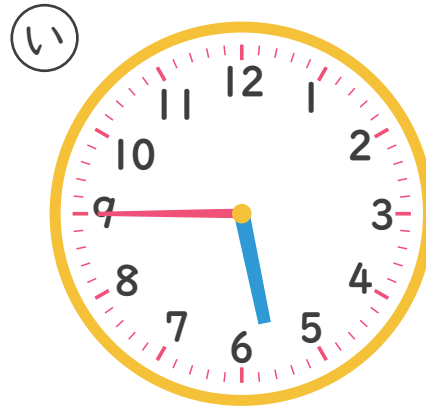
くみ なまえ

1 1じ52ふんのとけいはどれですか。



こたえ

2 9じ28ふんのとけいはどれですか。



こたえ

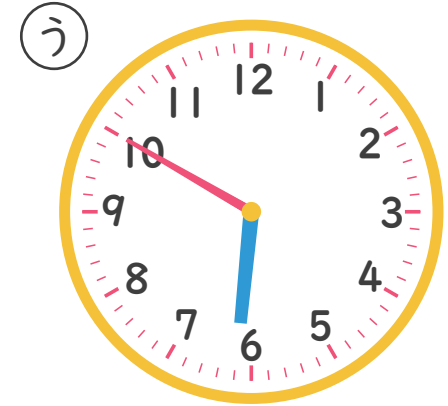
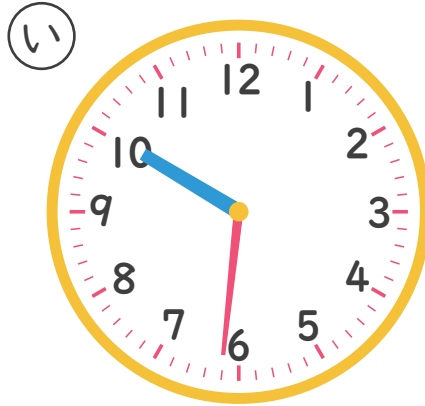


なんじなんぷん

ただしいとけいを こたえましょう 2 (6)

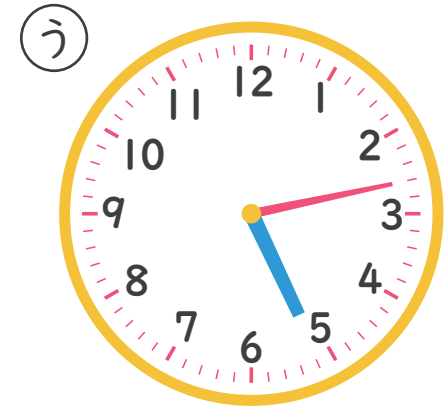
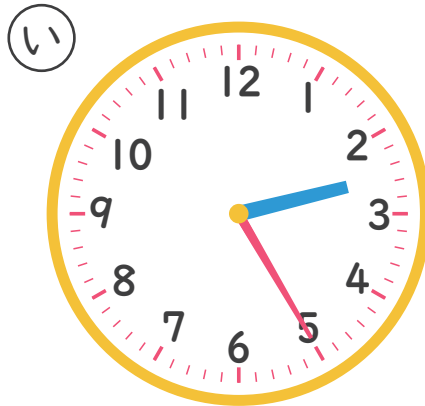
ねん くみ なまえ

1 10じ31ぷんの とけいは どれですか。



こたえ

2 5じ13ぷんの とけいは どれですか。



こたえ

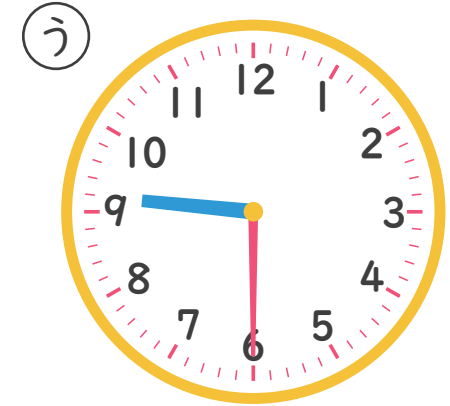
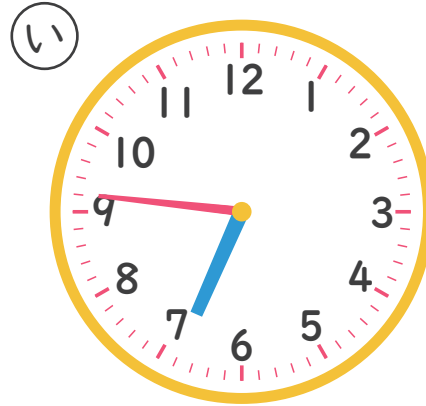
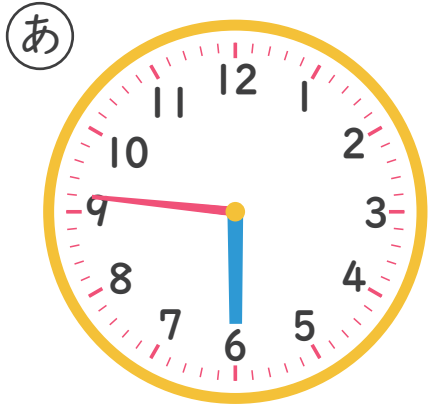


なんじなんぷん

ただしいとけいを こたえましょう 2 (7)

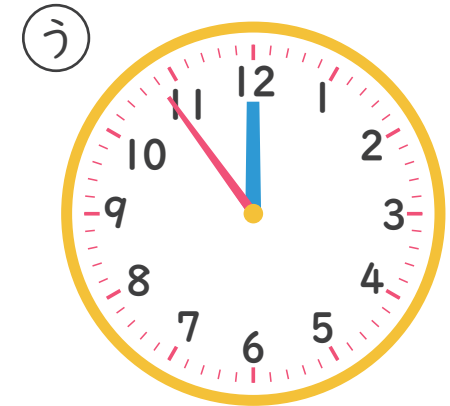

ねん くみ なまえ

1 6じ46ぷんの とけいは どれですか。



こたえ

2 12じ54ぷんの とけいは どれですか。



こたえ

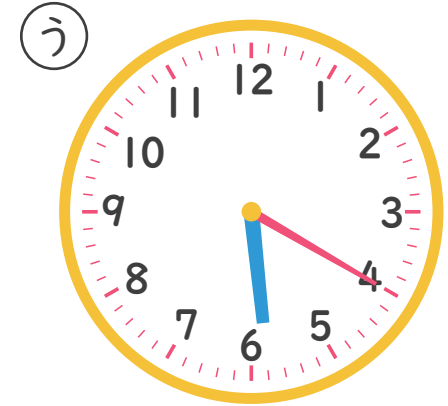
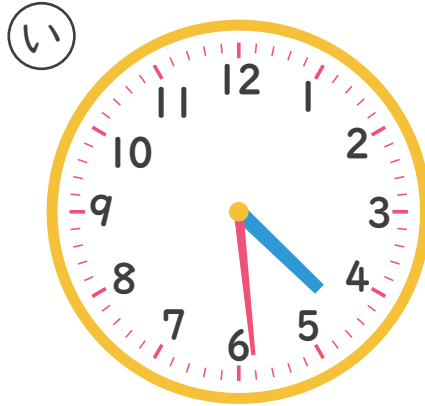


なんじなんぷん

ただしいとけいを こたえましょう 2 (8)


ねん くみ なまえ

1 4じ29ふんの とけいは どれですか。



こたえ _____

2 7じ33ふんの とけいは どれですか。



こたえ _____

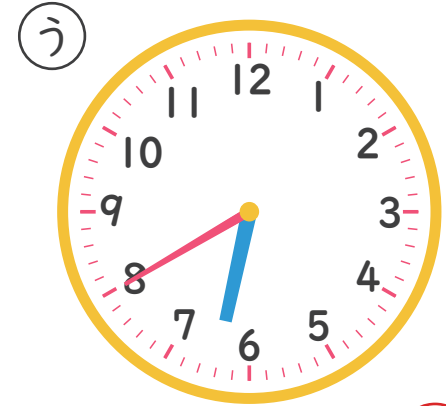


なんじなんぷん

ただしいとけいをこたえましょう2(1)

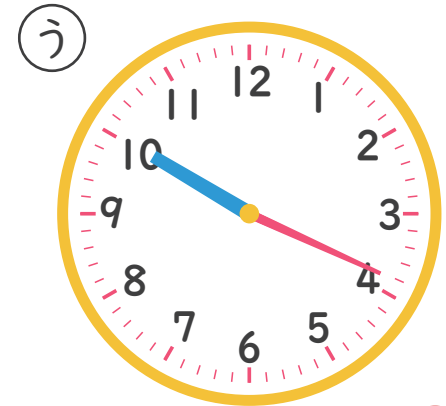
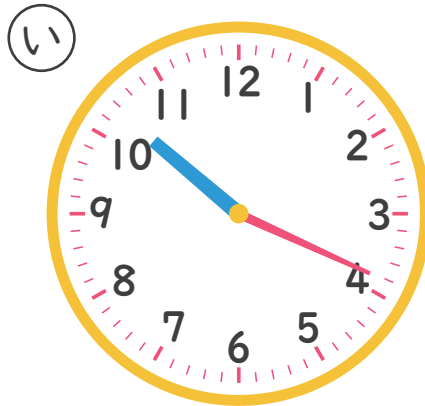
ねん くみ なまえ

1 8じ32ふんのとけいはどれですか。



こたえ あ

2 10じ19ふんのとけいはどれですか。



こたえ い





なんじ なんぷん

ただしい とけいを こたえましょう 2 (3)

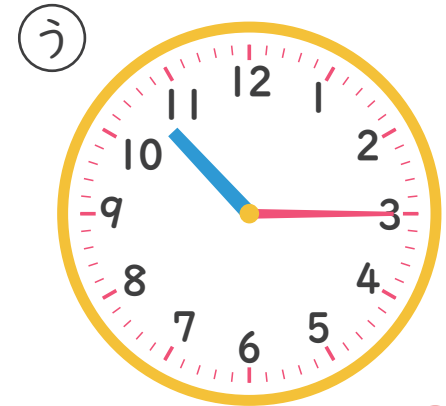
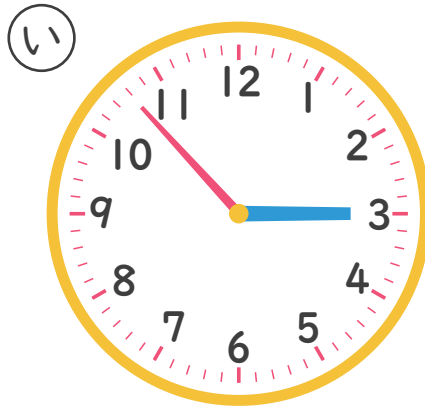
ねん くみ なまえ

1 11じ7ふんの とけいは どれですか。



こたえ う

2 3じ53ふんの とけいは どれですか。



こたえ あ

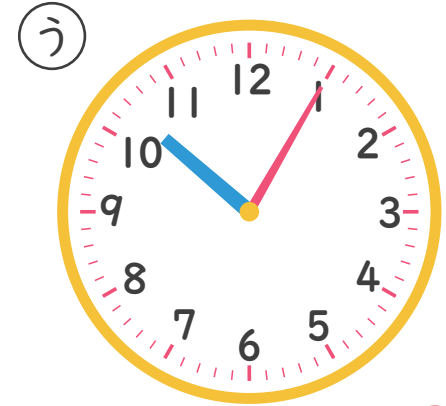



なんじなんぷん

ただしいとけいを こたえましょう 2 (5)

ねん くみ なまえ

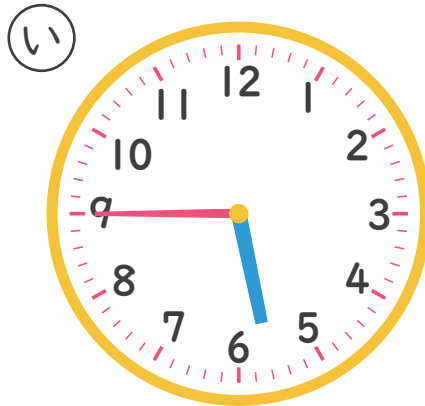
1 1じ52ふんの とけいは どれですか。



こたえ

い

2 9じ28ふんの とけいは どれですか。



こたえ

あ

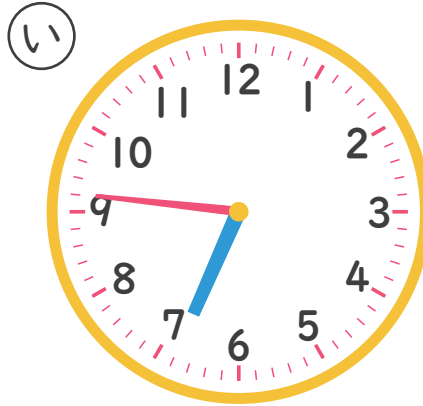
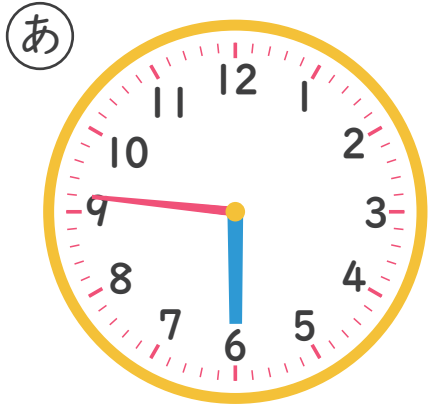


なんじなんぷん

ただしいとけいを こたえましょう 2 (7)

ねん くみ なまえ

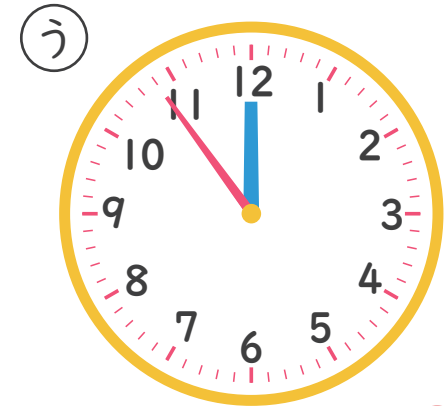

1 6じ46ぷんの とけいは どれですか。



こたえ

い

2 12じ54ぷんの とけいは どれですか。



こたえ

い

