

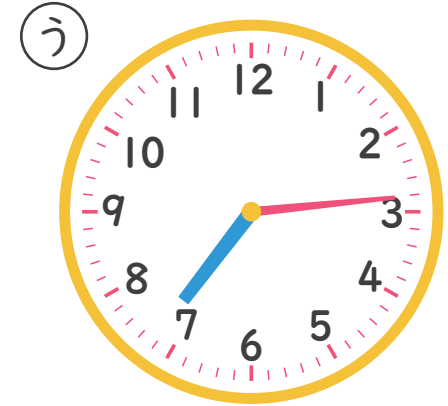
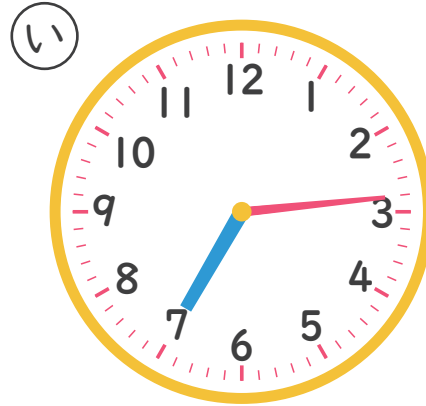


なんじなんぷん

ただしいとけいを こたえましょう 2 (4)

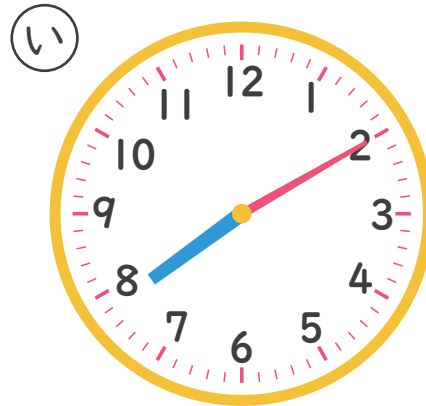
ねん くみ なまえ

1 7じ14ぷんの とけいは どれですか。



こたえ

2 2じ39ぷんの とけいは どれですか。



こたえ
