



# なんじなんぷん

ただしいとけいをこたえましょう2(3)

ねん

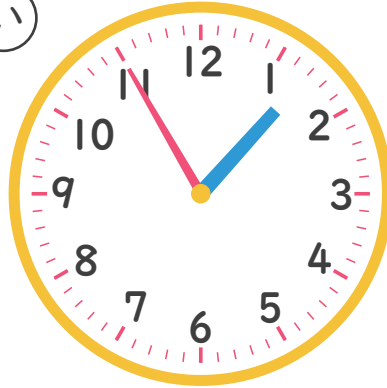
くみ なまえ

1 11じ7ふんのとけいはどれですか。

あ



い



う

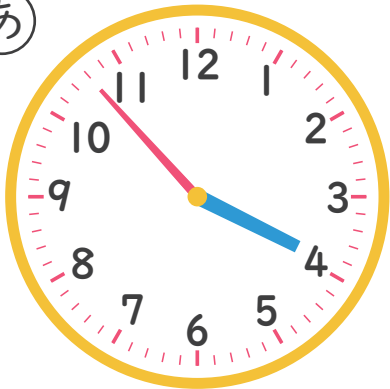


こたえ

---

2 3じ53ふんのとけいはどれですか。

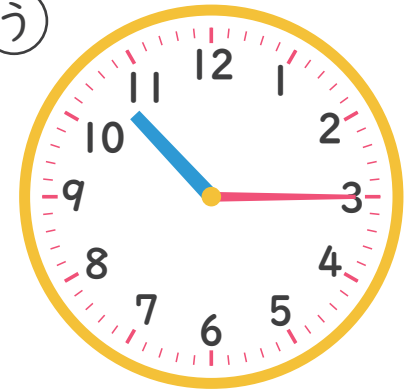
あ



い



う



こたえ

---