

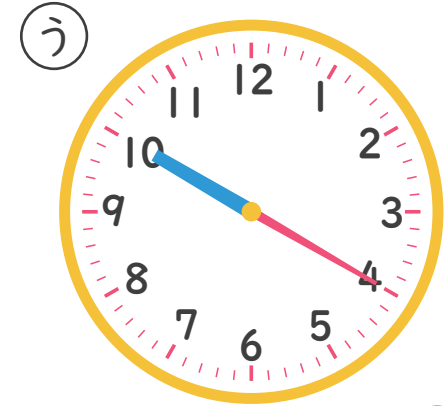
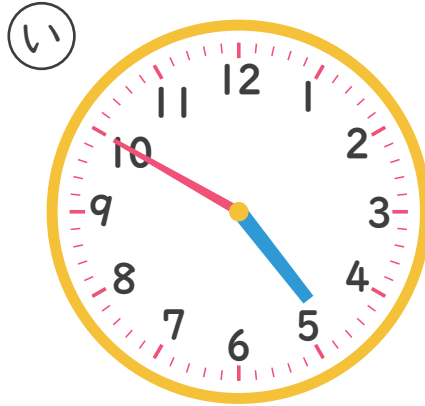


# なんじなんぷん

ただしとけいをこたえましよう！(7)

ねん くみ なまえ

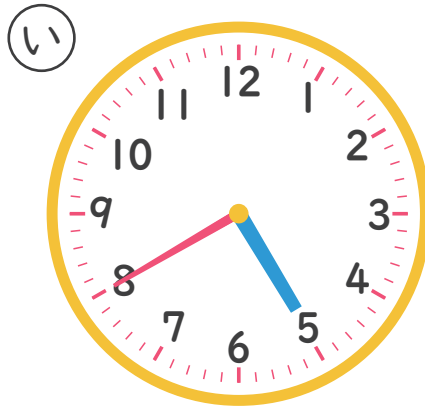
1 4じ50ぷんのとけいはどれですか。



こたえ

い

2 8じ25ぷんのとけいはどれですか。



こたえ

あ