



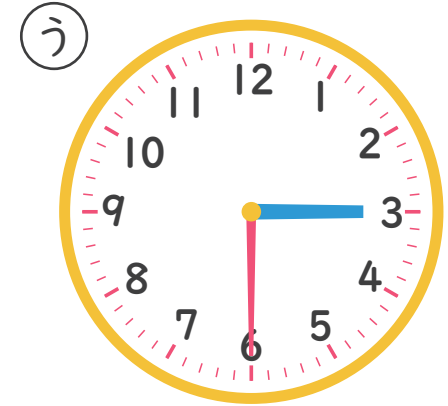
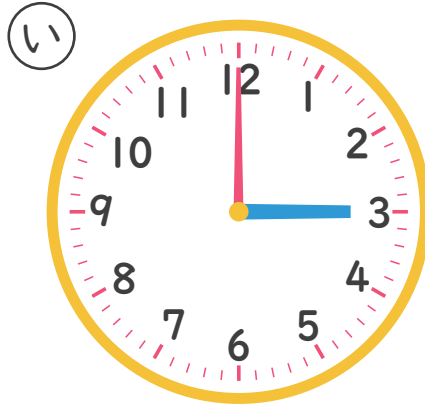

# なんじ なんじはん

ただしいとけいを こたえましょう  
なんじ！

ねん

くみ なまえ

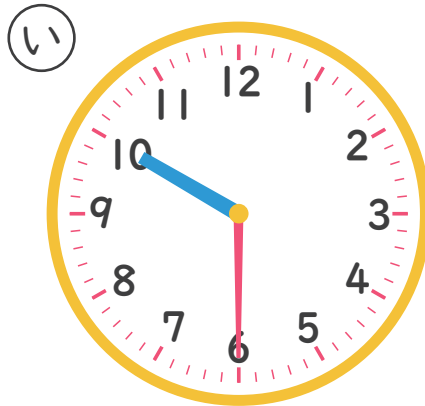
1 3じのとけいはどれですか。



こたえ

---

2 10じのとけいはどれですか。



こたえ

---



# なんじ なんじはん

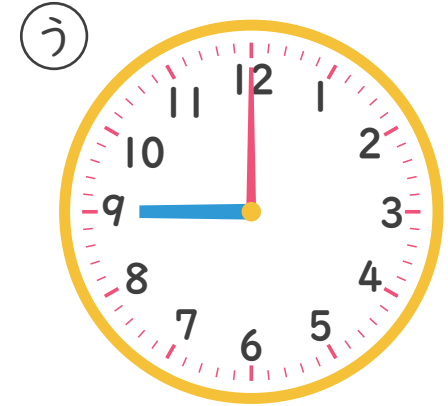
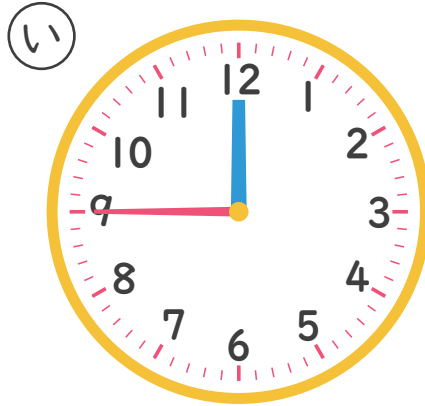
ただしいとけいを こたえましょう

なんじ 2

ねん

くみ なまえ

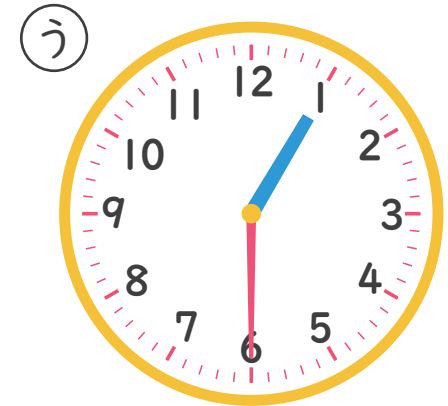

1 9じのとけいはどれですか。



こたえ

---

2 1じのとけいはどれですか。



こたえ

---



# なんじ なんじはん

ただしいとけいを こたえましょう

なんじ3

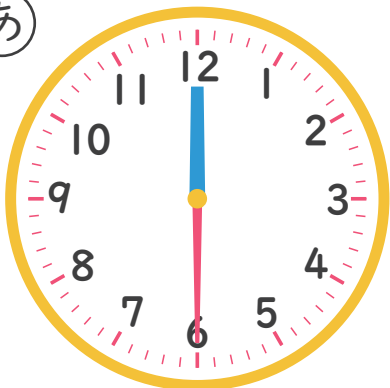
ねん

くみ

なまえ

1 6じのとけいはどれですか。

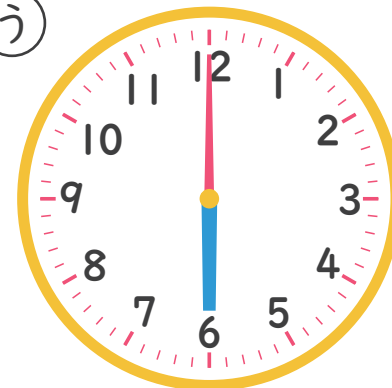
あ



い



う



こたえ

---

2 8じのとけいはどれですか。

あ



い



う



こたえ

---



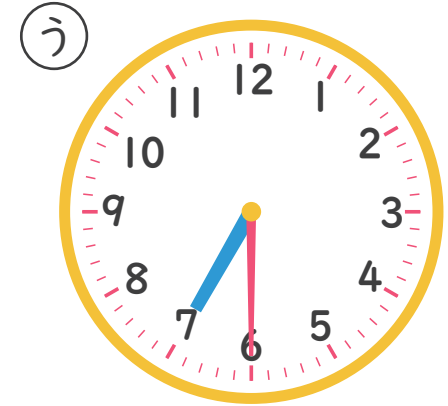

# なんじ なんじはん

ただしいとけいを こたえましょう  
なんじ 4

ねん

くみ なまえ

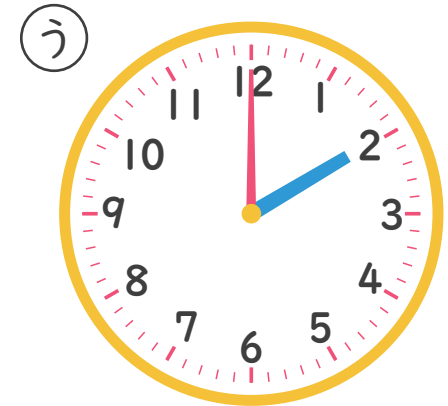
1 7じのとけいはどれですか。



こたえ

---

2 2じのとけいはどれですか。



こたえ

---



# なんじ なんじはん

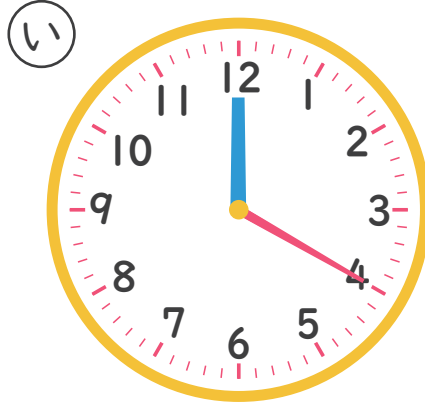
ただしいとけいを こたえましょう

なんじ 5

ねん

くみ なまえ



1 4じの とけいは どれですか。



こたえ

---

2 12じの とけいは どれですか。



こたえ

---



# なんじ なんじはん

ただしいとけいを こたえましょう

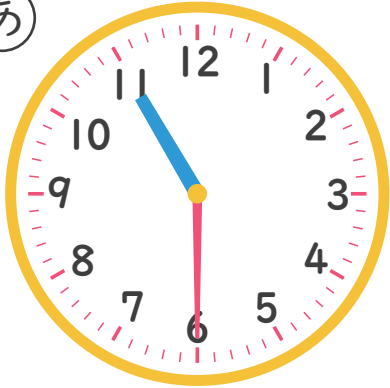
なんじ 6

ねん


くみ なまえ

1 11じのとけいはどれですか。

あ



い



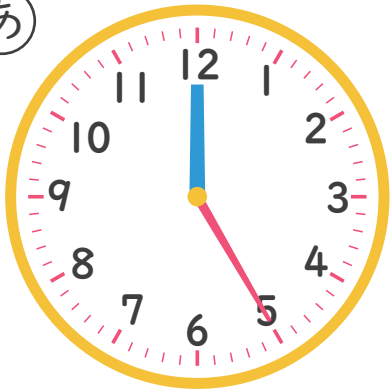
う




こたえ

2 5じのとけいはどれですか。

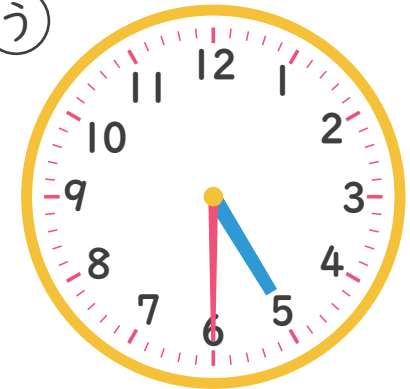
あ



い



う



こたえ



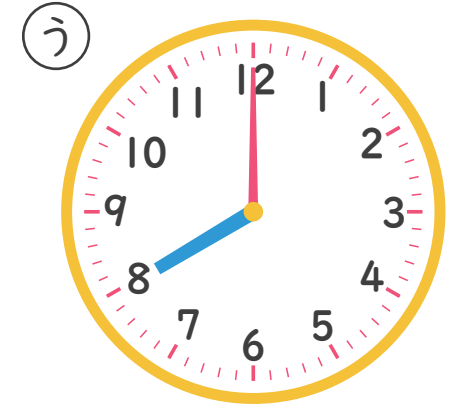
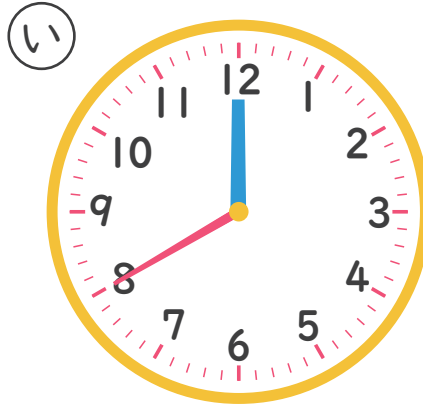
# なんじ なんじはん

ただしいとけいを こたえましょう  
なんじ7

ねん

くみ なまえ

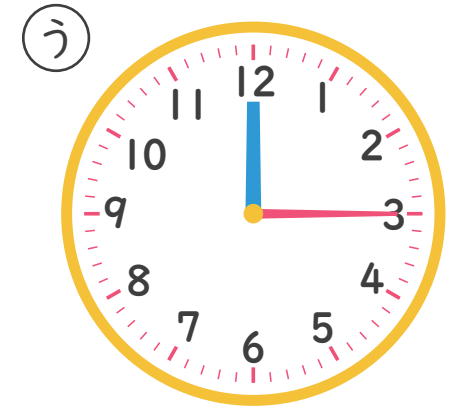
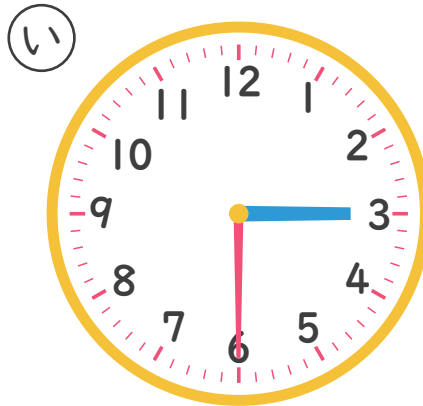

1 8じのとけいはどれですか。



こたえ

---

2 3じのとけいはどれですか。



こたえ

---



# なんじ なんじはん

ただしいとけいを こたえましょう

なんじ 8

ねん

くみ なまえ

1 4じのとけいはどれですか。

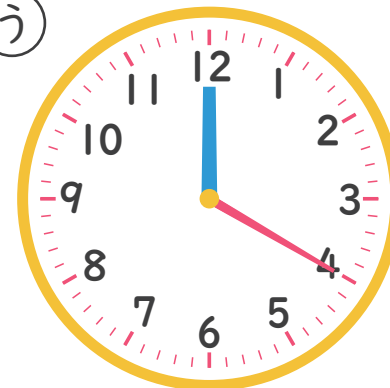
あ



い



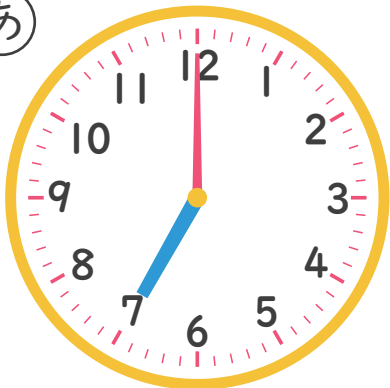
う



こたえ

2 7じのとけいはどれですか。


あ



い



う



こたえ





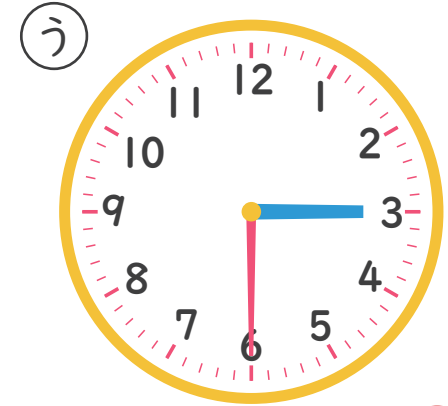
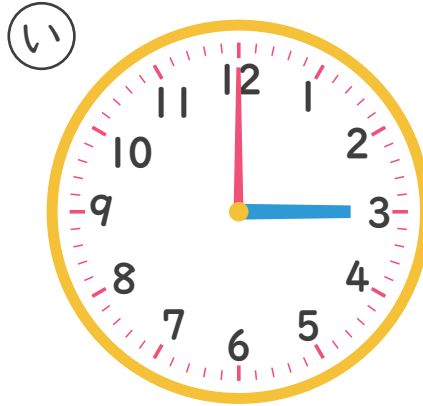

# なんじ なんじはん

ただしいとけいを こたえましょう  
なんじ!

ねん

くみ なまえ

1 3じのとけいはどれですか。



こたえ

い

2 10じのとけいはどれですか。



こたえ

あ



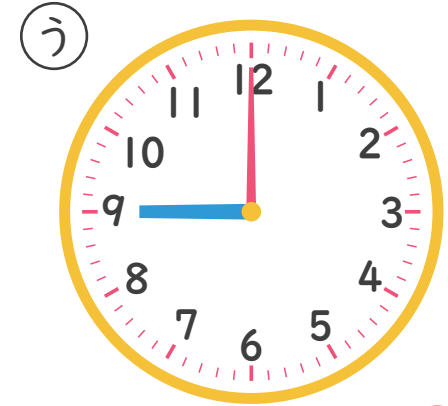
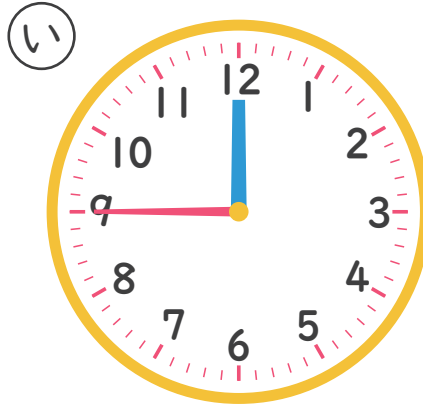
# なんじ なんじはん

ただしいとけいを こたえましょう  
なんじ 2

ねん

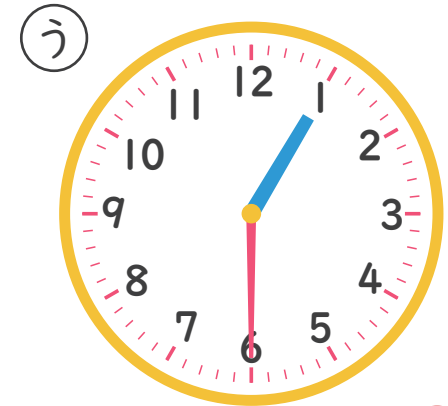

くみ なまえ

1 9じのとけいはどれですか。



こたえ う

2 1じのとけいはどれですか。



こたえ い



# なんじ なんじはん

ただしいとけいを こたえましょう

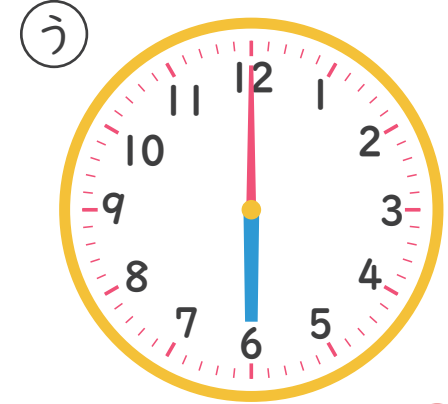
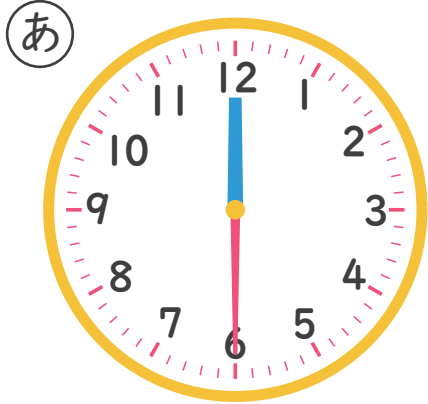
なんじ3

ねん

くみ

なまえ

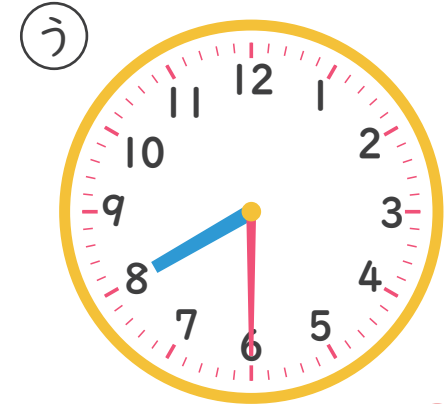
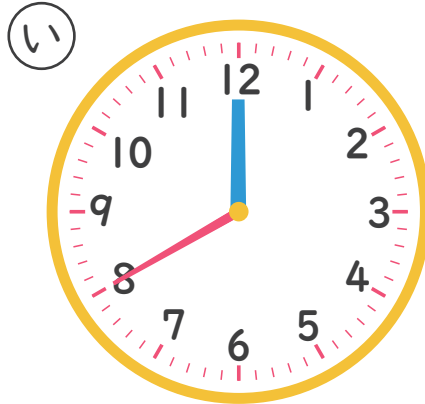
1 6じのとけいはどれですか。



こたえ

う

2 8じのとけいはどれですか。



こたえ

あ



# なんじ なんじはん

ただしいとけいを こたえましょう

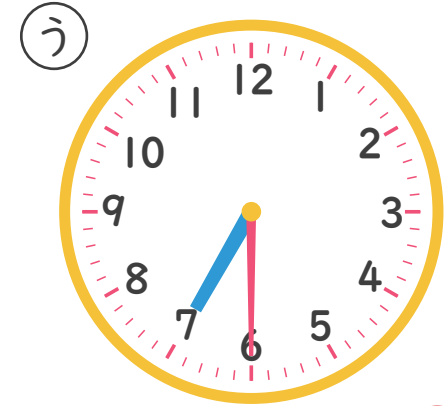

なんじ 4

ねん

くみ

なまえ

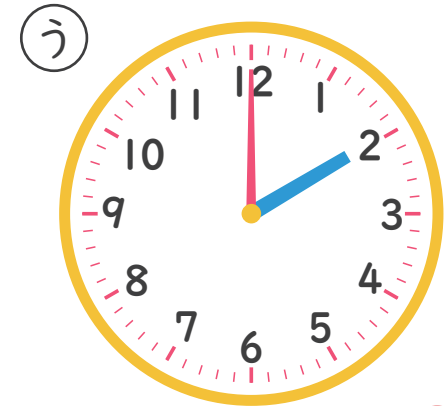
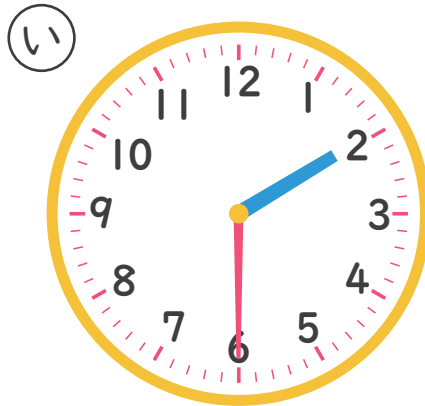
1 7じのとけいはどれですか。



こたえ

い

2 2じのとけいはどれですか。



こたえ

う



# なんじ なんじはん

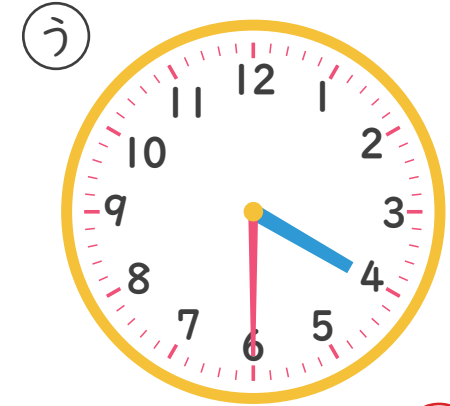
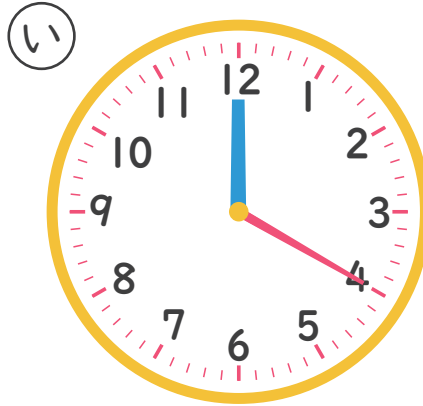
ただしいとけいを こたえましょう

なんじ 5

ねん

くみ なまえ

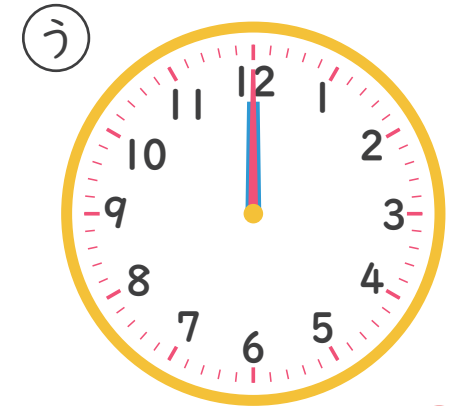

1 4じのとけいはどれですか。



こたえ

あ

2 12じのとけいはどれですか。



こたえ

う



# なんじ なんじはん

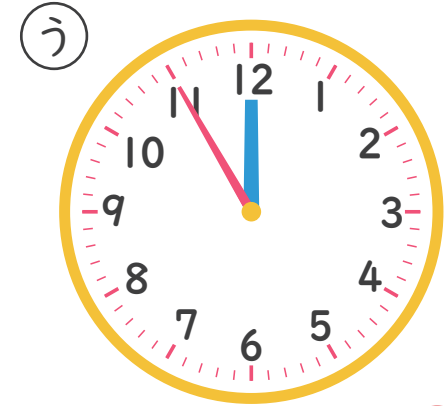

ただしいとけいを こたえましょう

なんじ 6

ねん

くみ なまえ

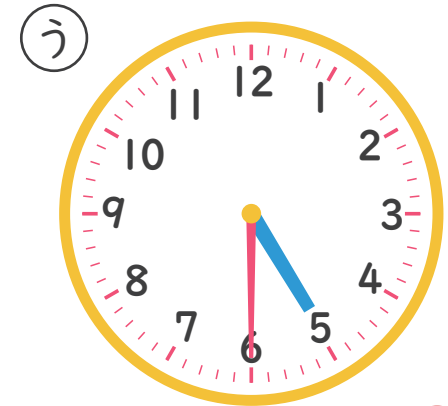
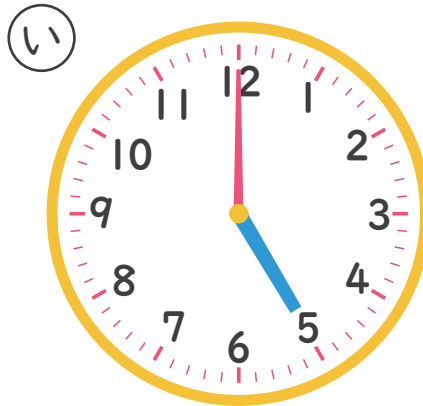
1 11じのとけいはどれですか。



こたえ

い

2 5じのとけいはどれですか。



こたえ

い



# なんじ なんじはん

ただしいとけいを こたえましょう

なんじ7

ねん

くみ

なまえ

1 8じのとけいはどれですか。

あ



い



う



こたえ

う

2 3じのとけいはどれですか。

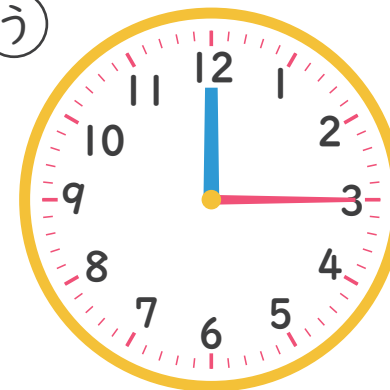
あ



い



う



こたえ

あ



# なんじ なんじはん

ただしいとけいを こたえましょう

なんじ 8

ねん

くみ

なまえ

1 4じのとけいはどれですか。

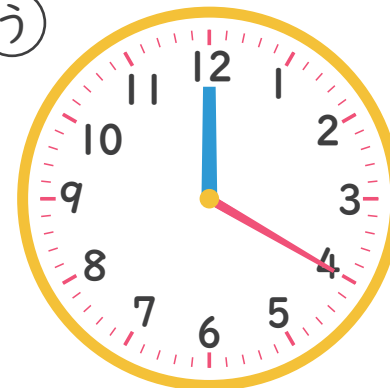
あ



い



う

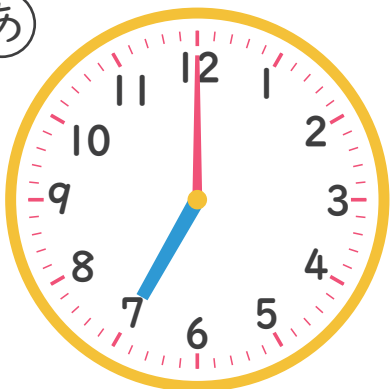


こたえ

い

2 7じのとけいはどれですか。

あ



い



う



こたえ

あ