



ふえるといくつ

しきとこたえをかきましょう(2)

ねん


くみ

なまえ


ふえるとなんわになりますか。しきをかいてこたえましょう。




しき $2 + 1 = 3$ こたえ 3 わ



しき $1 + 6 = 7$ こたえ 7 わ



しき $5 + 4 = 9$ こたえ 9 わ



しき $6 + 2 = 8$ こたえ 8 わ