



ちがいはいくつ

どちらがすくない (しきも かきましょう) 4

ねん


くみ なまえ

うしと やぎが います。どちらが なんとか すくない ですか。しきを かいて こたえ しましょう。




しき $4 - 1 = 3$

こたえ やぎ が 3 とう すくない




しき $8 - 4 = 4$

こたえ うし が 4 とう すくない



しき $9 - 6 = 3$

こたえ やぎ が 3 とう すくない



しき $10 - 6 = 4$

こたえ うし が 4 とう すくない